

NÍVEL FUNDAMENTAL COMPLETO

MANHÃ

CARGO 04: Motorista de Veículos Pesados

CARGO 05: Operador de Equipamentos Leves

CARGO 06: Operador de Máquinas Pesadas

FUNDAÇÃO
CETAP



Prefeitura Municipal de Ourém

INSTRUÇÕES ESPECIAIS

- 01** Você está recebendo o seu Caderno de Questões, contendo 50 (cinquenta) questões objetivas de múltipla escolha, numeradas de 01 a 50, em ordem sequencial. Confira a sequência numérica de seu Caderno de Questões antes de iniciar a resolução, assim como o número de páginas, comunicando, imediatamente, ao Fiscal de Sala, em caso de repetição ou ausência de questão ou página.
- 02** Você deve conferir, na capa do Caderno de Questões e no rodapé das páginas internas, o nível a que o Caderno de Questões se refere. Caso você tenha recebido um Caderno de Questões que não corresponda ao mesmo nível descrito no seu Cartão Resposta, comunique imediatamente ao Fiscal de Sala e exija o Caderno de Questões correto.
- 03** As respostas das questões objetivas de múltipla escolha do Caderno de Questões deverão ser transcritas para o Cartão Resposta com caneta esferográfica de tinta azul ou preta fabricada em material transparente.
- 04** Para cada questão da Prova Objetiva de Múltipla Escolha existirão 05 (cinco) alternativas de resposta (A, B, C, D e E), das quais apenas uma será correta, de acordo com o comando da questão. A marcação de mais de uma no Cartão Resposta anula, automaticamente, a resposta da questão.
- 05** O tempo máximo disponível para realização da prova é de 3h30 (três horas e trinta minutos), já incluído o tempo destinado à identificação e ao preenchimento do Cartão Resposta.
- 06** Somente depois de decorridos 60 minutos do início da prova, o candidato poderá entregar o seu Caderno de Questões e o seu Cartão Resposta, e retirar-se da sala de prova.
- 07** Os 3 (três) últimos candidatos só poderão sair da sala de prova juntos.
- 08** Será permitido ao candidato levar consigo o Caderno de Questões e o Gabarito desde que nos últimos 30 (trinta) minutos antes do término da prova.

ATENÇÃO

Escreva no espaço apropriado do **Cartão Resposta**, com a sua caligrafia usual, a seguinte “frase mestra” de Albert Einstein:

“O único lugar onde o sucesso vem antes do trabalho é no dicionário.”

A transcrição da “frase mestra” é obrigatória e servirá para identificar o Cartão Resposta do candidato, bem como possibilitar o Exame Pericial Grafotécnico, quando for o caso. A falta da transcrição poderá ocasionar a eliminação do candidato no presente concurso público.

PREFEITURA MUNICIPAL DE OURÉM/PA
CONCURSO PÚBLICO Nº 01/2017



LÍNGUA PORTUGUESA

Leia o texto e responda o que se pede no comando das questões.

Não, nós não gostamos de apanhar!

"Mas, Maria Laura, tem mulher que gosta de apanhar", disse uma empresária.

Outro conhecido acrescentou: "São relacionamentos abusivos, as mulheres batem nos companheiros e acabam apanhando". Esses comentários me chocaram. Foram feitos em resposta a uma recente pesquisa sobre violência doméstica em Roraima, estado com maior taxa de homicídios de mulheres no país.

A pesquisa, na qual trabalhei, expôs as falhas do governo no enfrentamento da violência doméstica. Mas algumas pessoas parecem não perceber os inegáveis equívocos estatais e, em vez disso minimizam a violência e culpam as mulheres. Notícia do século XXI: a agressão às mulheres continua bem real, assim como a decepcionante resposta do Estado. A culpa não é das mulheres.

Vejamos o caso de "Ana", que sofreu ofensas e agressões de seu parceiro por oito anos, em dezembro, ele a expulsou de casa e, no meio da rua, bateu em sua cabeça, no rosto e nos braços, ele só parou quando um filho dela o afastou. A filha de Ana, de 13 anos, chamou a polícia que não fez nada. "Apenas deixou um cartão". Às três da manhã, as duas caminharam por uma hora até uma delegacia onde escutaram que teriam de ir à delegacia da mulher para denunciar a agressão, apesar de ela estar fechada naquele dia. Só na semana seguinte Ana conseguiu registrar a ocorrência e pedir proteção.

É claro que algumas mulheres podem também agredir. Isso não tem absolutamente nada a ver com o sofrimento de milhares delas que sentem que não têm escolha senão suportar abusos, esconder hematomas e fingir que nada aconteceu.

Mulheres sofrem violência por anos sem procurar ajuda. Apenas 25% reportam agressões. Podem sofrer pressão familiar com o parceiro. Podem se preocupar em como alimentar, vestir e abrigar seus filhos. O peso do estigma pode inibi-las de compartilhar suas experiências e traumas com a polícia. Muitas vezes temem que o agressor faça suas ameaças, caso descubra que elas foram à polícia, sem que essa possa detê-lo. Mas uma das principais razões para não reportarem a violência está na descrença de que isso fará diferença.

Quando se trata de violência contra a mulher, a impunidade é a regra. Encontramos cerca de 8400 boletins de ocorrência de violência doméstica acumulados na delegacia da mulher em Boa Vista. A delegada-chefe disse que falta pessoal para tornar os "passos iniciais de investigação", inclusive ouvir a vítima, que permitiria a instauração de inquérito. Roraima reflete um problema nacional.

Temos uma legislação abrangente para prevenir a violência e garantir a justiça e o Brasil participa de tratados que protegem os direitos das mulheres, infelizmente, muitos avanços continuam sempre no papel. Comentários que ouvi mostram que o machismo permanece vivo e permite a impunidade, tornando-nos cúmplices. Para mudar, devemos reconhecer que as mulheres sofrem abusos cotidianamente e que a lei é insuficiente. Muitos casos não são registrados nem investigados, muito menos concluídos. Os homens que agredem sua companheira continuarão a fazê-lo enquanto permanecem impunes.

(Fonte: CANINEU, Maria Laura.
Revista Veja. Data: 12 de julho 2017)

Questão 01

Pode-se destacar como elemento surpresa ao leitor após a leitura:

- A) o escasso suprimento financeiro dos órgãos de segurança pública.
- B) o surgimento da violência de gênero no século XXI.
- C) o fato de mulher legitimar a cultura da violência.
- D) que as mulheres tinham vergonha de denunciar.
- E) a taxa decrescente de violência contra a mulher.

Questão 02

O emprego de aspas em "Ana" deve-se ao fato de:

- A) ser um nome muito específico.
- B) destacar o singular pelo plural no número de vítimas.
- C) ela não ter conseguido ser atendida.
- D) não se saber o sobrenome da vítima.
- E) ridicularizá-la pelo tempo de aceitação da violência.

Questão 03

Em: "(...) que teriam de ir à delegacia (...)", há o emprego do acento grave indicativo da crase. Isso também ocorre em:

- A) Fomos à Roraima pesquisar os crimes.
- B) Agressões à homens é menos comuns.
- C) Elas foram à delegacias.
- D) Ao ir à casa, foi agredida.
- E) A delegada relatou à vítima a falta de punições.

Questão 04

Em: "Só na semana seguinte Ana conseguiu registrar a ocorrência e pedir proteção". No período, há uma falha em relação:

- A) à concordância nominal.
- B) à concordância verbal.
- C) à grafia.
- D) à pontuação.
- E) à acentuação das palavras.

Questão 05

Os sinônimos de "hematoma" e "estigma" são, respectivamente:

- A) leveza - depreciação.
- B) roxura - apelido.
- C) mozza - lisongeo.
- D) equimose - cicatriz.
- E) fratura - elogio.

Questão 06

Marque a alternativa que substitui, sem alterar o sentido, o termo "caso" em: "faça suas ameaças, caso descubra que elas (...)".

- A) se.
- B) quando.
- C) como.
- D) para.
- E) mas.

Questão 07

O pronome "suas" no excerto "faça suas ameaças, caso descubra que elas (...)" refere-se, no contexto:

- A) à mulher.
- B) ao agressor.
- C) à família
- D) aos filhos.
- E) à polícia.

Questão 08

No fragmento: "(...) devemos reconhecer que as mulheres sofrem (...)", o "que" é uma conjunção integrante o que também ocorre em:

- A) "É claro que algumas mulheres podem (...)"
- B) "Os homens que agredem sua companheira (...)"
- C) "(...) com o sofrimento de milhares delas que sentem (...)"
- D) "(...) inclusive ouvir a vítima, que permitiria a instauração do inquérito."
- E) "(...) o Brasil participa de tratados que protegem (...)"

Questão 09

"Mas, Maria Laura, tem mulher que gosta de apanhar". O termo "Maria Laura" classifica-se sintaticamente como:

- A) sujeito.
- B) aposto.
- C) objeto direto.
- D) predicativo do sujeito.
- E) vocativo.

Questão 10

A oração adverbial "Quando se trata de violência contra a mulher" no trecho: "Quando se trata de violência contra a mulher, a impunidade é a regra." dá ideia de:

- A) concessão.
- B) condição.
- C) tempo.
- D) proporção.
- E) fim.

Questão 11

Marque a única alternativa que tenha uma palavra que não tem a mesma classificação quanto à tonicidade das demais alternativas:

- A) violência.
- B) doméstica.
- C) ocorrências.
- D) polícia.
- E) machismo.

Questão 12

Assinale a alternativa em que o "o" ou "a" não funcionam como artigo:

- A) "(...) as mulheres batem (...)"
- B) "(...) minimizam a violência (...)"
- C) "(...) a agressão (...)"
- D) "(...) um filho dela o afastou (...)"
- E) "(...) com o sofrimento de milhares delas."

Questão 13

"Os homens que agredem sua companheira continuarão a fazê-lo". O pronome "lo", está substituindo:

- A) agredir.
- B) homens.
- C) casos.
- D) investigados.
- E) casos.

Questão 14

Em norma culta, não se deve contrair a preposição "de" se o termo seguinte estiver exercendo a função de sujeito. Exemplifica essa regra em:

- A) "Vejam o caso de 'Ana' (...)"
- B) "(...) os 'passos iniciais de investigação' (...)"
- C) "(...) apesar de ela estar fechada naquele dia."
- D) "(...) a violência está na descrença de que isso fará diferença."
- E) "Encontramos cerca de 8400 boletins de ocorrências (...)"

Questão 15

Marque a alternativa que transforma a frase "A filha de Ana, de 13 anos, chamou a polícia (...)" para a voz passiva:

- A) A filha de Ana, de 13 anos, foi chamada pela polícia.
- B) Chamou-se a polícia pela filha de 13 anos.
- C) A polícia será chamada pela filha de 13 anos de Ana.
- D) A polícia foi chamada pela filha de Ana de 13 anos.
- E) A filha de Ana, de 13 anos, foi chamar a polícia.

Questão 16

"(...) 8400 boletins (...)", o numeral do fragmento classifica-se como:

- A) ordinal.
- B) fracionário.
- C) cardinal.
- D) multiplicativo.
- E) numeral substantivo.

Questão 17

O sujeito da oração não está destacado corretamente em:

- A) A pesquisa expôs as falhas do governo. (A pesquisa).
- B) A culpa não é das mulheres. (mulheres)
- C) Às 3 da madrugada, as duas caminharam por uma hora até a delegacia. (as duas)
- D) Isso não tem absolutamente nada a ver. (Isso)
- E) Mulheres sofrem violência por anos. (Mulheres)

Questão 18

No período: "(...) Ana conseguiu registrar a ocorrência e pedir proteção". A conjunção no período estabelece uma relação de:

- A) alternância.
- B) adversidade.
- C) adição.
- D) conclusão.
- E) explicação

Questão 19

Falhou a conjugação de uma das formas nominais dos verbos presentes no texto:

- A) tem (ter, tendo, tido).
- B) gosta (gostar, gostando, gostado).
- C) apanhar (apanhar, apanhando, apanhado).
- D) acrescentou (acrescentar, acrescentando, acrescentado).
- E) expôs (expor, expondo, expado).

Questão 20

Assinale a alternativa em que não há uma palavra paroxítona:

- A) Laura.
- B) permite.
- C) agredir.
- D) braços.
- E) avanços.



MATEMÁTICA E RACIOCÍNIO LÓGICO

Questão 21

Durante a Festa do Círio de Nazaré, as luzes dos arcos que enfeitam a Avenida acendem em intervalos regulares:

1ª luz a cada 15 segundos
2ª luz a cada 20 segundos
3ª luz a cada 10 segundos
4ª luz a cada 5 segundos

Se as quatro luzes acenderam juntas, depois de quanto tempo voltarão a acender simultaneamente?

- A) 2 minutos.
- B) 5 minutos.
- C) 1 minuto.
- D) 20 segundos.
- E) 40 segundos.

Questão 22

Querendo comprar uma geladeira recebi a seguinte proposta:

- 25% de entrada
- 3 prestações de R\$150,00
- 1 prestação de R\$210,00

Quanto pagarei pela geladeira?

- A) R\$880,00
- B) R\$920,00
- C) R\$1.200,00
- D) R\$1.000,00
- E) R\$960,00

Questão 23

Preciso pagar R\$3.600,00 pelo serviço executado por 3 trabalhadores A, B e C de maneira diretamente proporcional aos dias trabalhados:

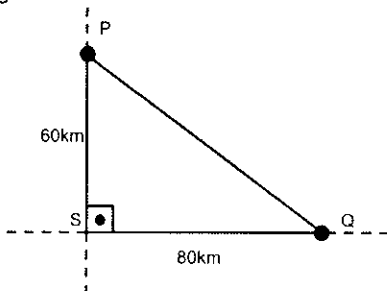
- A → 4 DIAS
- B → 6 DIAS
- C → 8 DIAS

Que valor devo pagar ao trabalhador C ?

- A) R\$1.800,00
- B) R\$1.200,00
- C) R\$1.600,00
- D) R\$1.520,00
- E) R\$1.400,00

Questão 24

Duas estradas se cortam formando um ângulo de 90°, conforme o gráfico a seguir. Qual a distância entre as cidades P e Q?



- A) 140 km
- B) 120 km
- C) 160 km
- D) 180 km
- E) 100 km

Questão 25

Três amigos jantaram juntos (Antônio, Bento e Carlos) e, ao receberem a conta ficaram surpresos com o que lhe foi apresentado:

- A + B = R\$120,00
- A + C = R\$150,00
- B + C = R\$110,00

Qual será o valor total da conta? (A+B+C)

- A) R\$130,00
- B) R\$190,00
- C) R\$127,00
- D) R\$135,00
- E) R\$186,00

Questão 26

Em uma obra 32 homens com igual capacidade de trabalho realizam um serviço em 45 dias. Com 20 homens apenas, em quantos dias será realizado um trabalho igual?

- A) 72
- B) 60
- C) 56
- D) 68
- E) 75

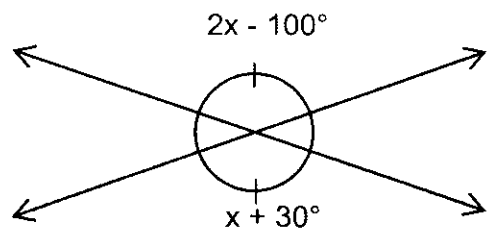
Questão 27

Qual o volume de um cubo cuja aresta mede 9cm?

- A) 27 cm³
- B) 270 cm³
- C) 810 cm³
- D) 729 cm³
- E) 2.700 cm³

Questão 28

"Dois ângulos opostos pelo vértice têm a mesma medida". Analise o gráfico e calcule o valor dos ângulos assinalados:



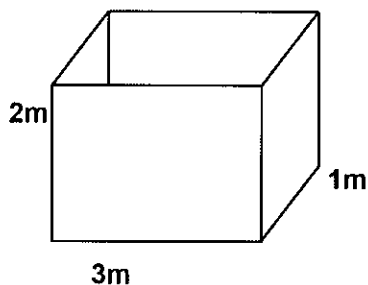
- A) 130°
- B) 140°
- C) 150°
- D) 160°
- E) 120°

Questão 29

A razão entre dois números é 1/3. Calcule o valor do maior sabendo que eles somam 60.

- A) 15
- B) 30
- C) 45
- D) 25
- E) 40

Um reservatório de água com forma de paralelepípedo tem como medidas 3m x 1m x 2m. Analise a figura e responda as questões 30, 31 e 32.



Questão 30

Qual a medida do volume do reservatório?

- A) 5 m^3
- B) 20 m^3
- C) 8 m^3
- D) 16 m^3
- E) 6 m^3

Questão 31

Qual a capacidade em litros do reservatório?

- A) 5.000 l
- B) 2.000 l
- C) 6.000 l
- D) 800 l
- E) 600 l

Questão 32

A torneira que abastece esse reservatório tem vazão de aproximadamente 20 litros por minutos. Em quanto tempo essa vazão enche completamente o reservatório?

- A) 240 minutos.
- B) 3 horas.
- C) 6 horas.
- D) 5 horas.
- E) 280 minutos.

Questão 33

240 alunos representam 12% do total de uma escola. Quantos alunos tem esse colégio?

- A) 2.000
- B) 2.100
- C) 2.200
- D) 2.300
- E) 2.400

Questão 34

O salário de um trabalhador era de R\$920,00 e sofreu um reajuste de 3%. Quanto passou a ser seu novo salário?

- A) R\$980,30
- B) R\$960,00
- C) R\$947,60
- D) R\$950,20
- E) R\$974,50

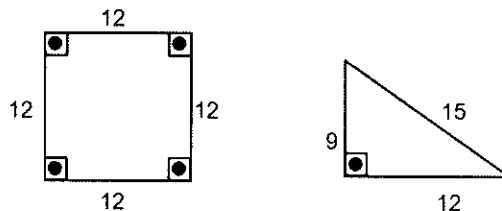
Questão 35

Em um concurso Público, a Prova de Matemática avaliada com índice de dificuldade 20 teve a média 6 entre os concursados. Qual seria a média do mesmo grupo se o índice de dificuldade fosse elevado para 24?

- A) 2
- B) 3,5
- C) 4
- D) 5
- E) 3,5

Questão 36

Qual a razão entre a área do quadrado e a área do triângulo descritos nas figuras a seguir?



- A) $\frac{8}{3}$
- B) $\frac{4}{3}$
- C) $\frac{3}{8}$
- D) $\frac{3}{4}$
- E) $\frac{4}{5}$

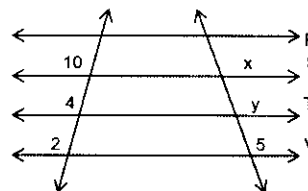
Questão 37

Dois funcionários receberam o pagamento das horas extras trabalhadas do mês de julho sendo que, um recebeu R\$150,00 a mais que o outro. Sabendo que os valores estão na razão 9/4, calcule quanto os dois juntos receberam.

- A) R\$270,00
- B) R\$690,00
- C) R\$420,00
- D) R\$320,00
- E) R\$390,00

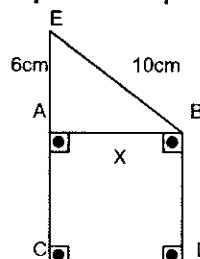
Questão 38

Quatro retas paralelas R, S, T e V são cortadas por duas retas transversais. Nessas condições x + y é igual a:



- A) 12
- B) 35
- C) 25
- D) 18
- E) 21

Analise a figura e responda as questões 39 e 40.



Questão 39

Qual é o valor do perímetro do quadrado?

- A) 24 cm
- B) 26 cm
- C) 32 cm
- D) 36 cm
- E) 28 cm

Questão 40

Qual a área total da figura?

- A) 88 cm²
- B) 76 cm²
- C) 112 cm²
- D) 120 cm²
- E) 96 cm²



ATUALIDADES

Questão 41

"No próximo domingo (17), termina o mandato do procurador-geral da República, _____. No cargo, onde está desde agosto de 2013, assumiu a Operação Lava Jato e foi responsável pelos pedidos de prisão de Eduardo Cunha em 2016 e de Joesley Batista na última sexta-feira (8)." (Fonte: Revista Época. Data de acesso: 14.09.2017). Como se chama o procurador-geral da República mencionado nessa reportagem?

- A) Rodrigo Janot.
- B) Michel Temer.
- C) Marcello Miller.
- D) Eike Batista.
- E) Aluizio Mercadante.

Questão 42

"Governo quer concluir privatização da _____ até o primeiro semestre de 2018. Processo de recuperação da empresa ocorre paralelamente à privatização, disse Fernando Coelho Filho. (...) O detalhamento do modelo de desestatização e as condicionantes devem ser apresentados este mês. Uma dessas condicionantes, segundo ele, é que parte dos recursos financeiros das usinas no Rio São Francisco fique para um amplo programa de revitalização do rio." (Fonte: Portal ORM. Data de acesso: 14.09.2017). O que o governo pretende privatizar segundo a reportagem?

- A) A Cosanpa.
- B) A Rede Celpa.
- C) A Eletronorte.
- D) A Eletrobras.
- E) O PROCON.

Questão 43

"O _____, furacão mais poderoso registrado no Atlântico, passou nessa segunda-feira (11) para depressão tropical, em seu avanço pelo sudeste dos Estados Unidos (EUA), informou o Centro Nacional de Furacões (CNH) do país." (Fonte: Portal ORM. Data de acesso: 14.09.2017). Qual foi o nome atribuído a esse furacão?

- A) Arlene.
- B) Irma.
- C) Catrina.
- D) Bret.
- E) Cindy.

Questão 44

"Ritmo de crescimento no número de matrículas no ensino _____ diminui. Os dados fazem parte do (...) divulgado pelo Inep. O número de matrículas em instituições de ensino (...) subiu de 8,03 milhões em 2015 para 8,05 milhões em 2016, uma diminuição no ritmo de crescimento quando comparado aos últimos anos. Em 2006, foram 4,94 milhões de matrículas. Em 2010, esse número subiu para 6,4 milhões e, em 2014, para 7,83 milhões." (Fonte: Portal ORM. Data de acesso: 14.09.2017). Marque a alternativa que complete corretamente a lacuna da reportagem apresentada:

- A) infantil.
- B) fundamental.
- C) básico.
- D) médio.
- E) superior.

Questão 45

"A _____ advertiu nesta segunda-feira (11, horário local) aos Estados Unidos que lhe infligirá "o maior dos sofrimentos" se Washington prosseguir exortando a ONU a endurecer suas sanções contra Pyongyang após seu sexto teste nuclear. Em comunicado reproduzido pela agência oficial KCNA, o ministério (...) adverte que se Washington "aplicar esta resolução ilegal sobre um endurecimento das sanções, a _____ garantirá que os Estados Unidos paguem o preço." (Fonte: Portal ORM. Data de acesso: 14.09.2017). Marque a alternativa que complete corretamente a lacuna.

- A) Síria.
- B) Rússia.
- C) Malásia.
- D) Coreia do Norte.
- E) Turquia.



LEGISLAÇÃO

Responda as questões a seguir de acordo com a Lei Municipal n. 1.936/2017:

Questão 46

Marque a alternativa que complete corretamente a lacuna do art. 6º transcrito a seguir: "Os integrantes dos Grupos, constantes desta lei, ocupantes de cargos efetivos, serão nomeados mediante _____ de provas e de provas e títulos, que será realizado de acordo com as necessidades de cada localidade do município (...)".

- A) portaria.
- B) decreto.
- C) concurso público.
- D) processo seletivo.
- E) indicação.

Questão 47

Nos termos do art. 2º, os servidores públicos civis integrantes do quadro de cargos criados por esta Lei reger-se-ão pelo(a):

- A) CLT - Consolidação das Leis do Trabalho do Município de Ourém.
- B) Regime Único do Servidor Público da Prefeitura de Ourém.
- C) Constituição da República Federativa do Brasil.
- D) Estatuto dos Servidores Públicos do Município de Ourém.
- E) Lei Ordinária do Município.

Questão **48**

Segundo o art. 3º, o Plano de Cargos instituído terá a seguinte composição: Quadro Permanente; Quadro Suplementar; e, Quadro de Cargos de Provimento em Comissão. Quem definirá os critérios para a distribuição dos servidores nesses Quadros?

- A) Poder Executivo Municipal.
- B) Poder Legislativo Municipal.
- C) Poder Judiciário Municipal.
- D) Secretaria Municipal de Administração.
- E) Departamento de Recursos Humanos da Prefeitura.

Questão **49**

Leia o art. 27 a seguir transcrito e marque a alternativa que complete o trecho corretamente: "Os candidatos aprovados no concurso são detentores de _____".

- A) direito líquido e certo.
- B) mera expectativa de direito à nomeação.
- C) cargos públicos.
- D) salário e adicionais.
- E) vagas.

Questão **50**

Nos termos do art. 40, o Poder Executivo Municipal regulamentará o processo de avaliação de desempenho dos servidores municipais, para fins da:

- A) progressão vertical.
- B) nomeação em cargo público.
- C) estabilidade adquirida no estágio probatório.
- D) aquisição de triênio.
- E) progressão horizontal.

