

**NÍVEL FUNDAMENTAL INCOMPLETO**

**MANHÃ**

**CARGO 02: Auxiliar de Serviços Urbanos**

**CARGO 03: Vigia**

FUNDAÇÃO  
**CETAP**



Prefeitura Municipal de Ourém

## INSTRUÇÕES ESPECIAIS

- 01** Você está recebendo o seu Caderno de Questões, contendo 40 (quarenta) questões objetivas de múltipla escolha, numeradas de 01 a 40, em ordem sequencial. Confira a sequência numérica de seu Caderno de Questões antes de iniciar a resolução, assim como o número de páginas, comunicando, imediatamente, ao Fiscal de Sala, em caso de repetição ou ausência de questão ou página.
- 02** Você deve conferir, na capa do Caderno de Questões e no rodapé das páginas internas, o nível a que o Caderno de Questões se refere. Caso você tenha recebido um Caderno de Questões que não corresponda ao mesmo nível descrito no seu Cartão Resposta, comunique imediatamente ao Fiscal de Sala e exija o Caderno de Questões correto.
- 03** As respostas das questões objetivas de múltipla escolha do Caderno de Questões deverão ser transcritas para o Cartão Resposta com caneta esferográfica de tinta azul ou preta fabricada em material transparente.
- 04** Para cada questão da Prova Objetiva de Múltipla Escolha existirão 05 (cinco) alternativas de resposta (A, B, C, D e E), das quais apenas uma será correta, de acordo com o comando da questão. A marcação de mais de uma no Cartão Resposta anula, automaticamente, a resposta da questão.
- 05** O tempo máximo disponível para realização da prova é de 3h30 (três horas e trinta minutos), já incluído o tempo destinado à identificação e ao preenchimento do Cartão Resposta.
- 06** Somente depois de decorridos 60 minutos do início da prova, o candidato poderá entregar o seu Caderno de Questões e o seu Cartão Resposta, e retirar-se da sala de prova.
- 07** Os 3 (três) últimos candidatos só poderão sair da sala de prova juntos.
- 08** Será permitido ao candidato levar consigo o Caderno de Questões e o Gabarito desde que nos últimos 30 (trinta) minutos antes do término da prova.

## ATENÇÃO

Escreva no espaço apropriado do **Cartão Resposta**, com a sua caligrafia usual, a seguinte “frase mestra” de Albert Einstein:

**“O único lugar onde o sucesso vem antes do trabalho é no dicionário.”**

A transcrição da “frase mestra” é obrigatória e servirá para identificar o Cartão Resposta do candidato, bem como possibilitar o Exame Pericial Grafotécnico, quando for o caso. A falta da transcrição poderá ocasionar a eliminação do candidato no presente concurso público.

**PREFEITURA MUNICIPAL DE OURÉM/PA**  
CONCURSO PÚBLICO Nº 01/2017



LÍNGUA PORTUGUESA

Leia o texto e responda o que se pede no comando de cada questão:

O que ajuda a ser um bom aluno?

Você sabe o que ajuda seu filho ir bem na escola? Motivação, capacidade de se concentrar, assiduidade, bom comportamento em sala de aula e compromisso em estudar para provas e realizar as tarefas de casa são algumas das chaves para as notas altas no final de cada bimestre. Trabalhos científicos recentes apontam outras questões que afetam a vida escolar dos jovens.

O primeiro deles, da Universidade Concordia em Montreal, Canadá, sugere que jovens que começam a fumar maconha antes dos 15 anos podem sofrer um impacto permanente em sua capacidade cognitiva. Em contrapartida, aqueles que experimentam a droga só com 21 anos raramente enfrentam algum problema. Os pesquisadores afirmam que o contato precoce com a droga provoca perda de memória, redução do Q.I. (quociente de inteligência), piora no desempenho escolar e maior chance de doenças mentais.

Há um mês, um estudo americano também encontrou relações significativas entre uso mais pesado de maconha e pior desempenho escolar, com notas mais baixas. Na iminência da legalização da maconha no Canadá (marcada para 1º de julho de 2018), os cientistas defendem que a restrição para menores de 18 anos, além de um controle rigoroso dos impactos na saúde, é medida urgente a ser adotada.

O segundo estudo, realizado pela London School of Economics, no Reino Unido, acompanhou 1.169 crianças que nasceram em casas de mães solteiras, que em seguida se uniram a um homem. Os resultados sugerem que, quando o pai biológico passa a viver com os filhos, a criança tem saúde, inteligência, habilidades sociais e desempenho na escola melhores. Quando a mãe segue sozinha ou passa a morar com um padrasto, não há esse impacto positivo. As crianças foram avaliadas ao completar 7 anos de idade.

Para terminar, um estudo norueguês da Uni Research, em Bergen, aponta que mães "vegnas" (que não comem carne, leite e ovos) podem ter uma deficiência de vitamina B12. Isso, além de aumentar a chance de partos prematuros, pode interferir no desenvolvimento neurológico das crianças, fazendo com que elas tenham maior dificuldade cognitiva na infância. Foram avaliadas mais de 500 crianças no Nepal, e os resultados publicados no periódico *American Journal of Clinical Nutrition*.

Em resumo, as pesquisas mais atuais reforçam que questões tão distintas como nutrição adequada, pais próximos e contato adiado com as drogas colaboram para o desenvolvimento cognitivo e para a vida escolar dos jovens.

(Jairo Bouer)

Questão 01

- O texto de Jairo Bouer se propõe a analisar:
- A) como a maconha prejudica o estudante adulto.
  - B) o que favorece o bom desempenho escolar.
  - C) como os brasileiros se alimentam mal.
  - D) como é inadequado ser mãe solteira.
  - E) qual a importância do lazer para a aprendizagem.

Questão 02

- A leitura do texto confirma:
- A) que o Canadá já aprovou a maconha.
  - B) que três instituições, pelo menos, foram sedes das pesquisas.

- C) que padrastos substituem, com eficiência, o pai biológico em relação ao desempenho escolar.
- D) que a alimentação vegana é salutar ao desempenho acadêmico.
- E) que assiduidade e comportamento são os únicos fatores para o sucesso na escola.

Questão 03

São restrições da dieta vegana, segundo o texto:

- A) a não ingestão de frutas.
- B) o não consumo de legumes.
- C) a retirada de bebidas alcoólicas e similares.
- D) somente as massas que contém trigo.
- E) a retirada de carne, leite e ovos do cardápio.

Questão 04

Marque a alternativa que contenha apenas palavras do gênero masculino:

- A) capacidade - motivação - redução.
- B) cientistas - impactos - medidas.
- C) dificuldade - resumo - vida.
- D) quociente - impacto - desempenho.
- E) sala - jovens - chance.

Questão 05

A letra maiúscula está usada em substantivo próprio em:

- A) Você.
- B) Q.I.
- C) Para.
- D) Em.
- E) Bergen.

Questão 06

Em "pesquisadores", a letra "s" tem som de "z" semelhante a:

- A) rigoroso.
- B) medidas.
- C) escolar.
- D) ser.
- E) padrasto.

Questão 07

Marque a alternativa em que o substantivo não sofre alteração de gênero (masculino/feminino):

- A) pesquisadores.
- B) pais.
- C) filhos.
- D) crianças.
- E) norueguês.

Questão 08

"Os oxítonas terminados em -a,-e,-o e -em" são acentuados, o que ocorre em:

- A) você.
- B) inteligência.
- C) mês.
- D) saúde.
- E) restrição.

Questão 09

O plural do adjetivo está incorreto em:

- A) vida escolar (vidas escolares)
- B) contato precoce (contatos precoces)
- C) controle rigoroso (controles rigorosos)
- D) desenvolvimento cognitivo (desenvolvimentos cognitivos)
- E) estudo norueguês (estudos noruegueses)

Questão 10

Não há palavra paroxítona em:

- A) saúde.
- B) colaboram.
- C) sofrer.
- D) maconha.
- E) reforçam.

Questão 11

A separação das sílabas está correta em:

- A) re-stri-ção.
- B) inte-li-gên-cia.
- C) cog-ni-ti-va.
- D) maco-nha.
- E) pa-ssa.

Questão 12

Está correta a significação da palavra em:

- A) comportamento (delito).
- B) impacto (interferência).
- C) deficiência (habilidade).
- D) saúde (patologia).
- E) redução (aumento).

Questão 13

Em: "são algumas das chaves para as notas altas". A palavra "chaves" tem sentido semelhante em:

- A) Pega a chave na dispensa
- B) O molho de chave desapareceu.
- C) A chave do sucesso é o equilíbrio.
- D) Se perderes a chave, não entras.
- E) Chave é uma palavra dissilaba.

Questão 14

A palavra polissílaba ocorre na alternativa:

- A) fazendo.
- B) baixas.
- C) impactos.
- D) periódicos.
- E) Nepal.

Questão 15

O hiato justifica o emprego do acento em:

- A) científico.
- B) memória.
- C) saúde.
- D) periódico.
- E) neurológico.



MATEMÁTICA

Questão 16

O hodômetro é um aparelho usado para medir distâncias percorridas. Um caminhão saiu de Belém com o hodômetro marcando 12.520 km e vai até Salinas distante 220 km de Belém. Quantos quilômetros estará marcando o hodômetro ao chegar em Salinas?

- A) 12.640 km
- B) 12.740 km
- C) 12.840 km
- D) 12.720 km
- E) 13.100 km

Questão 17

Na última eleição para prefeito de uma cidade do interior do Pará concorreram Três candidatos A, B e C. A tabela a seguir mostra a contabilização dos votos.

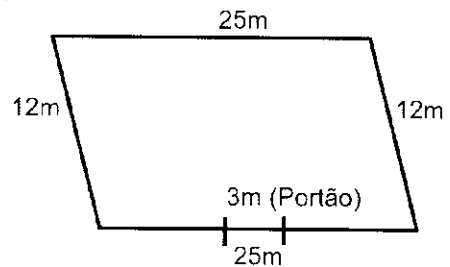
A	B	C	BRANCOS E NULOS
534	728	1.080	58

Quantos eleitores votaram nessa eleição?

- A) 2.380
- B) 2.300
- C) 2.400
- D) 2.280
- E) 2.350

Questão 18

Um terreno tem a forma representada pela figura a seguir. Para murar todo o contorno do terreno excluindo o espaço destinado ao portão de 3m, quantos metros de muro deverão ser construídos?



- A) 71
- B) 72
- C) 68
- D) 65
- E) 73

Questão 19

Após analisar um terreno, um agrônomo verificou que com 01 hectare dessa terra poderiam ser produzidos 52 toneladas de arroz. Calcule quantas toneladas de arroz, poderão ser produzidas em 06 hectares de um terreno com as mesmas propriedades do primeiro?

- A) 312
- B) 362
- C) 252
- D) 322
- E) 352

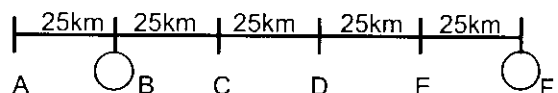
Questão 20

No Auditório de uma Escola há 180 cadeiras distribuídas igualmente em 12 fileiras. Quantas cadeiras há em cada fileira?

- A) 12
- B) 13
- C) 14
- D) 15
- E) 16

Questão 21

Uma estrada está dividida em marcos A, B, C, D, E e F, e representada pela reta a seguir, em que cada intervalo entre dois marcos mede 25 km.



Quanto devo percorrer para ir do marco B até o marco F?

- A) 125 km
- B) 90 km
- C) 120 km
- D) 115 km
- E) 100 km

Questão 25

Qual a área em metros quadrados do terreno que José comprou?

- A) 245
- B) 285
- C) 430
- D) 290
- E) 280

Questão 26

José deseja construir uma casa usando  $\frac{1}{4}$  da área do terreno. Quantos metros quadrados de área terá a casa planejada?

- A) 65
- B) 70
- C) 72
- D) 60
- E) 75

Questão 27

No restante do terreno José deseja ter uma área livre para jardinagem e garagem. Quantos metros quadrados terá essa área?

- A) 210
- B) 180
- C) 358
- D) 205
- E) 230

Em uma caixa d'água com 5.000 litros foram consumidos  $\frac{2}{5}$  de sua capacidade. Com essa informação responda as questões 22 e 23.

Questão 22

Quantos litros foram consumidos?

- A) 1.250 ℓ
- B) 1.800 ℓ
- C) 1.850 ℓ
- D) 2.000 ℓ
- E) 2.200 ℓ

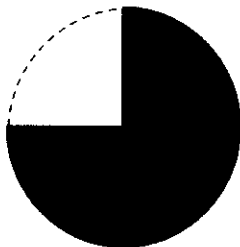
Questão 23

Quantos litros restaram?

- A) 3.200 ℓ
- B) 3.750 ℓ
- C) 3.600 ℓ
- D) 3.300 ℓ
- E) 3.000 ℓ

Questão 24

Uma praça com forma circular está sendo construída. Que fração representa a parte que já foi pavimentada que está representada pela parte pintada de preto?



- A)  $\frac{1}{4}$
- B)  $\frac{4}{3}$
- C)  $\frac{3}{4}$
- D)  $\frac{4}{1}$
- E)  $\frac{2}{4}$

“O exemplo mostra como calcular uma porcentagem”

Ex: 20% de R\$300,00 =  $0,20 \times 300 = R\$60,00$

Em uma promoção do “Dias das Mães” um fogão que custava R\$370,00 estava sendo vendido com 20% de desconto para pagamento à vista.

De acordo com as informações apresentadas, responda as questões 28 e 29.

Questão 28

Comprei o fogão à vista. Quanto obtive de desconto?

- A) R\$72,00
- B) R\$84,00
- C) R\$76,00
- D) R\$68,00
- E) R\$74,00

Questão 29

Quanto paguei pelo fogão?

- A) R\$298,00
- B) R\$286,00
- C) R\$294,00
- D) R\$302,00
- E) R\$296,00

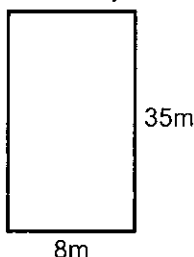
Questão 30

Em uma padaria um pão doce custa R\$0,25. Comprei 8 pães e paguei com uma cédula de R\$10,00. Quanto recebi de troco?

- A) R\$ 6,00
- B) R\$ 8,20
- C) R\$ 8,00
- D) R\$ 5,00
- E) R\$ 7,80

“Calcula-se a área de um terreno retangular multiplicando a medida do seu comprimento pela medida da sua largura”

José comprou um terreno com a forma de um retângulo com 35m de comprimento por 8m de largura. Com base nessas informações resolva as questões 25, 26 e 27.





**ATUALIDADES**

**Questão 31**

"A Promotoria de Meio Ambiente e Patrimônio Cultural do Ministério Público do Estado (MPE) vai solicitar, formalmente, ao prefeito de Belém, Zenaldo Coutinho, que a recente lei, aprovada pela Câmara dos Vereadores, reconhecendo o som automotivo como \_\_\_\_\_ seja vetada." (Fonte: Portal ORM. Data de acesso: 14.09.2017). Marque a alternativa que complete corretamente a lacuna da reportagem apresentada:

- A) veículo automotivo.
- B) som amazônico.
- C) patrimônio cultural e imaterial.
- D) patrimônio da humanidade.
- E) veículo de comunicação.

**Questão 32**

"O presidente da República, Michel Temer, desembarca hoje no município de São Geraldo do Araguaia, no sul do Pará, onde assina a ordem de serviço para construção da ponte sobre o Rio \_\_\_\_\_, que vai ligar os municípios de Xambioá, no Tocantins, e São Geraldo do Araguaia, no Pará, na BR-153. A construção da ponte é um sonho antigo de moradores e produtores da região e do Estado vizinho." (Fonte: Diário Online. Data de acesso: 14.09.2017). Sobre qual Rio será construída essa ponte?

- A) Xingu.
- B) Guamá.
- C) Tocantins.
- D) Araguaia.
- E) Guari.

**Questão 33**

"No próximo domingo (17), termina o mandato do procurador-geral da República, \_\_\_\_\_ No cargo, onde está desde agosto de 2013, assumiu a Operação Lava Jato e foi responsável pelos pedidos de prisão de Eduardo Cunha em 2016 e de Joesley Batista na última sexta-feira (8)." (Fonte: Revista Época. Data de acesso: 14.09.2017). Como se chama o procurador-geral da República mencionado nessa reportagem?

- A) Rodrigo Janot.
- B) Michel Temer.
- C) Marcello Miller.
- D) Eike Batista.
- E) Aluizio Mercadante.

**Questão 34**

"\_\_\_\_\_ pode ter primeiro hospital público veterinário da Região Norte. Projeto Indicativo de Lei que implanta o serviço foi aprovado hoje (13)." (Fonte: Portal ORM. Data de Acesso: 14.09.2017). Qual o Estado que poderá ter o primeiro hospital público veterinário?

- A) Amazonas.
- B) Amapá.
- C) Pará.
- D) Acre.
- E) Roraima.

**Questão 35**

"Governo quer concluir privatização da \_\_\_\_\_ até o primeiro semestre de 2018. Processo de recuperação da empresa ocorre paralelamente à privatização, disse Fernando Coelho Filho. (...) O detalhamento do modelo de desestatização

e as condicionantes devem ser apresentados este mês. Uma dessas condicionantes, segundo ele, é que parte dos recursos financeiros das usinas no Rio São Francisco fique para um amplo programa de revitalização do rio." (Fonte: Portal ORM. Data de acesso: 14.09.2017). O que o governo pretende privatizar segundo a reportagem?

- A) A Cosanpa.
- B) A Rede Celpa.
- C) A Eletronorte.
- D) A Eletrobras.
- E) O PROCON.

**Questão 36**

"O \_\_\_\_\_, furacão mais poderoso registrado no Atlântico, passou, nessa segunda-feira (11) para depressão tropical, em seu avanço pelo sudeste dos Estados Unidos (EUA), informou o Centro Nacional de Furacões (CNH) do país." (Fonte: Portal ORM. Data de acesso: 14.09.2017). Qual foi o nome atribuído a esse furacão?

- A) Arlene.
- B) Irma.
- C) Catrina.
- D) Bret.
- E) Cindy.

**Questão 37**

"Ritmo de crescimento no número de matrículas no ensino \_\_\_\_\_ diminuiu. Os dados fazem parte do (...) divulgado pelo Inep. O número de matrículas em instituições de ensino (...) subiu de 8,03 milhões em 2015 para 8,05 milhões em 2016, uma diminuição no ritmo de crescimento quando comparado aos últimos anos. Em 2006, foram 4,94 milhões de matrículas. Em 2010, esse número subiu para 6,4 milhões e, em 2014, para 7,83 milhões." (Fonte: Portal ORM. Data de acesso: 14.09.2017). Marque a alternativa que complete corretamente a lacuna da reportagem apresentada:

- A) infantil.
- B) fundamental.
- C) básico.
- D) médio.
- E) superior.

**Questão 38**

"\_\_\_\_\_ tirou do ar nesta quinta-feira (31) a versão beta da CNH digital para smartphones Android. Conforme o G1 demonstrou, o download oferecido exigia que os usuários habilitassem uma opção que abrem as portas do sistema operacional para arquivos maliciosos." (Fonte: Portal ORM. Data de acesso: 14.09.2017). Qual órgão foi responsável pela ação descrita na reportagem apresentada?

- A) DETRAN.
- B) SERPRO.
- C) DENIT.
- D) SIVAN.
- E) SEMOB.

**Questão 39**

"A \_\_\_\_\_ advertiu nesta segunda-feira (11, horário local) aos Estados Unidos que lhe infligirá "o maior dos sofrimentos" se Washington prosseguir exortando a ONU a endurecer suas sanções contra Pyongyang após seu sexto teste nuclear. Em comunicado reproduzido pela agência oficial KCNA, o ministério (...) adverte que se Washington "aplicar esta resolução ilegal sobre um endurecimento das sanções, a \_\_\_\_\_ garantirá que os Estados Unidos paguem o preço." (Fonte: Portal ORM. Data de acesso: 14.09.2017). Marque a alternativa que complete corretamente a lacuna.

- A) Síria.
- B) Rússia.
- C) Malásia.
- D) Coreia do Norte.
- E) Turquia.

**Questão 40**

"A 11 dias das eleições gerais, a chanceler (...), Angela Merkel, se recusou a participar de um segundo debate televisivo com seu rival social-democrata Martin Schulz, ao mesmo tempo que seu favoritismo por um quarto mandato consecutivo à frente da principal economia europeia se consolida nas pesquisas. A informação é da agência Télam." (Fonte: Portal ORM. Data de acesso: 14.09.2017). Onde ocorrerão as eleições mencionadas na reportagem?

- A) França.
- B) Brasil.
- C) Alemanha.
- D) Dinamarca.
- E) Reino Unido.



